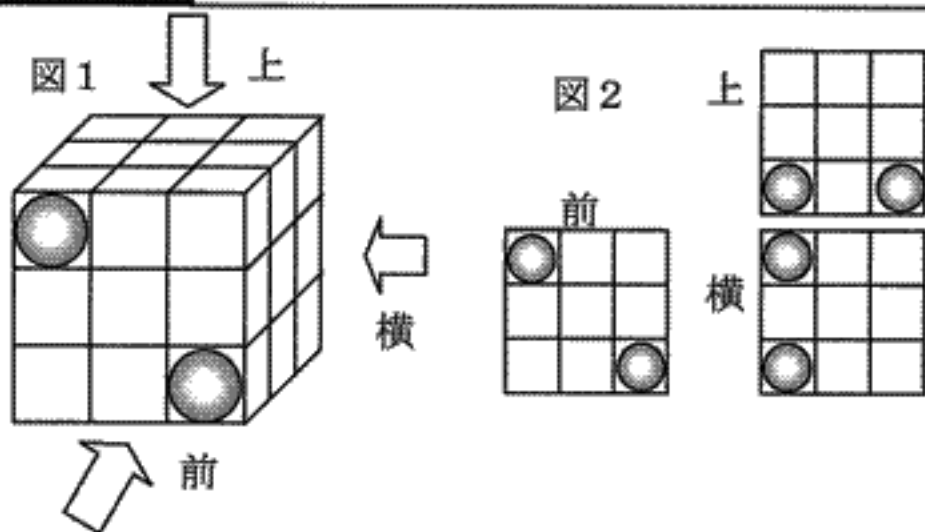


# 思い出し学習 数学検定 PUZZLE

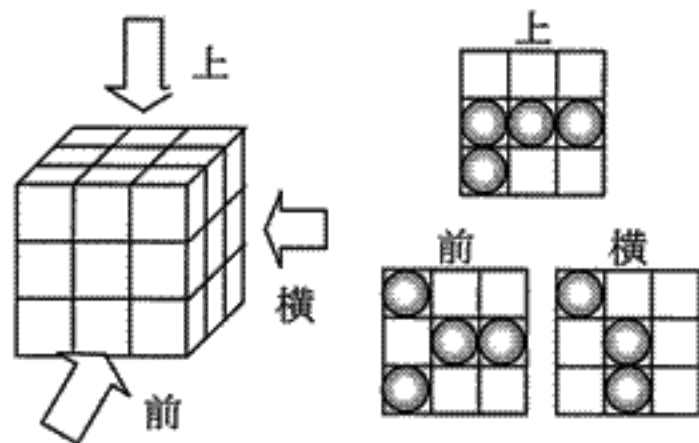
どうめいな立方体にいくつかのボールを入れました。さてボールの数は何個でしょうか？

問題提供：財団法人 日本数学検定協会

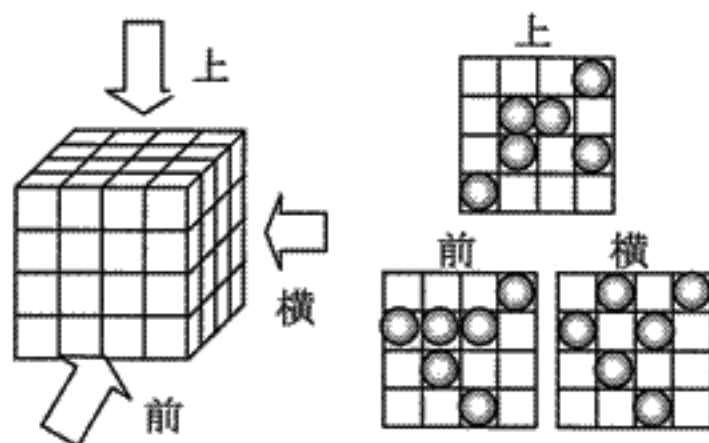
例：図1の立方体にはボールが2個入っています。  
上・横・前の方向から見ると図2のようになります。



【初級編】 ボールは何個あるでしょう。



【上級編】 ボールは何個あるでしょう。



数学検定 PUZZLE の解答例

【初級編】 4個

【上級編】 7個