


思い出し学習 「数検」PUZZLE

それぞれに示された形を、その形を縮小した相似な形で分割する問題です。問題に、何個に分割するかが表示されていますので、その通りに分割してみてください。

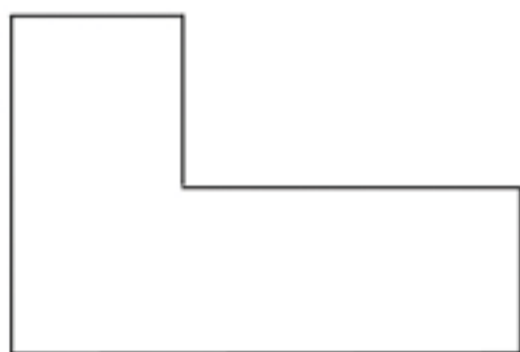
問題提供：財団法人 日本数学検定協会

【初級編】

(1) 相似な形 4 個で分割してください。

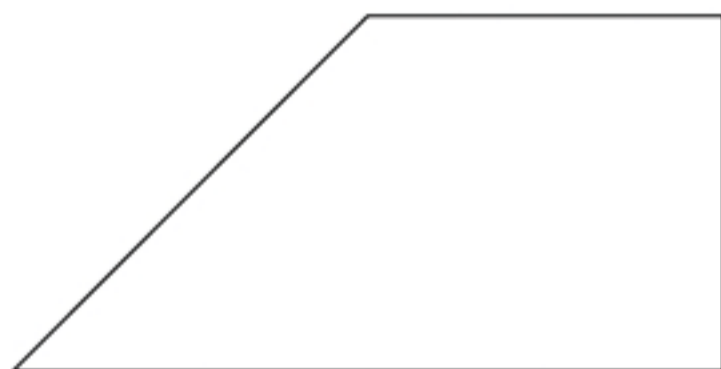


(2) 相似な形 4 個で分割してください。



【中級編】

(3) 相似な形 16 個で分割してください。

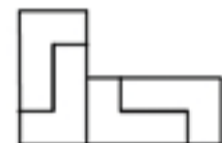


「数検」PUZZLE 解答例

(1) (3)



(2)



過去問題 【8級】

下の□にあてはまるものを+、-、×、÷の中から1つ選んで答えなさい。

(1) $1 \times 2 \times 3 \square 4 + 5 + 6 + 7 + 8 \times 9 = 100$

【解答】+

(2) $12 \times 34 \times 5 \square (6 + 7 + 8 + 9) = 2010$

【解答】-