

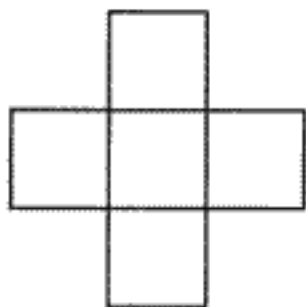
# 思い出し学習 数学検定 PUZZLE

下の図形を、四角形の組み合わせによって作るとき、いくつの四角形が必要になるでしょうか？なるべく少ない数を教えてください。

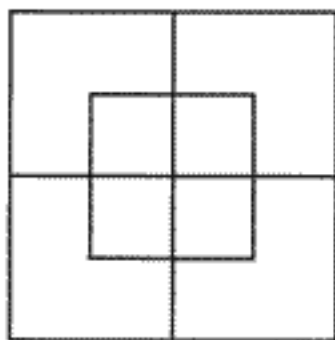
問題提供：財団法人 日本数学検定協会

## 【初級編】

(1)

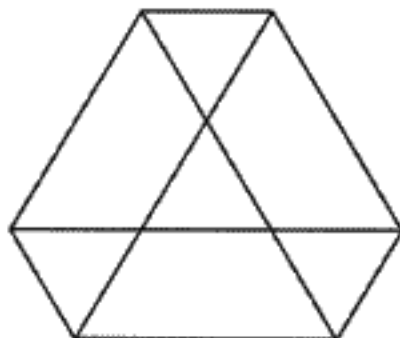


(2)

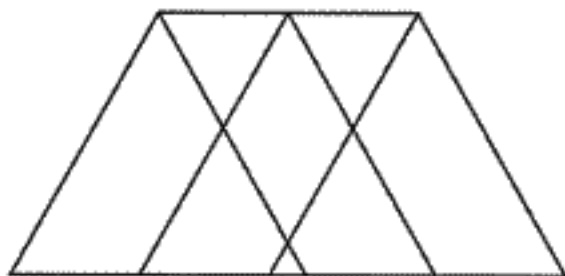


## 【中級編】

(3)



(4)



## 数学検定 PUZZLE の解答例

### 【初級編】

(1) 2個

(2) 4個

### 【中級編】

(3) 3個

(4) 3個